

**Ответы и указания к оцениванию образцов заданий проверочной работы по истории
для обучающихся 6-х классов образовательных организаций города Москвы**

№ задания	Ответ (эталон)	Макс. балл	Указания к оцениванию	Балл								
1	<div>Каждая из иллюстраций, приведённых ниже, относится к одному из указанных в таблице событий (процессов). Установите соответствие между событиями (процессами) и иллюстрациями: к каждому событию (процессу) подберите относящуюся к нему иллюстрацию.</div> <table><tr><td>Столетняя война</td><td>Образование государства Русь</td><td>Монгольское нашествие на Русь в XIII в.</td><td>Борьба Руси против монгольского владычества в XIV в.</td></tr><tr><td></td><td></td><td></td><td></td></tr></table>	Столетняя война	Образование государства Русь	Монгольское нашествие на Русь в XIII в.	Борьба Руси против монгольского владычества в XIV в.					2	Ответ совпадает с эталоном	2
		Столетняя война	Образование государства Русь	Монгольское нашествие на Русь в XIII в.	Борьба Руси против монгольского владычества в XIV в.							
												
Допущена одна ошибка	1											
Другие варианты	0											

2

Рассмотрите карту и выполните задания 2 и 3.



Походы, обозначенные на карте-схеме совершил князь

Ответ:

1

Ответ совпадает
с эталоном

1

Другие варианты

0

3



А. Напишите название города, обозначенного на карте-схеме цифрой 1.

Киев

Б. Какое государство прекратило существование во время правления князя, походы которого обозначены на карте-схеме?

Хазарский каганат

1

А

Ответ совпадает
с эталоном

1

Другие варианты

0

1

Б

Ответ совпадает
с эталоном













1

Другие варианты

0

4	<p>«И один из вельмож рязанских по имени Евпатий Коловрат был в то время в Чернигове вместе с князем Ингварем Ингоревиичем... И уехал из Чернигова с малою дружиною, и мчался быстро. И приехал в землю Рязанскую, и увидел её опустошённой: грады разорены, церкви сожжены, люди убиты... Евпатий закричал в горести души своей и разгораясь сердцем. И собрал небольшую дружину – тысячу семьсот человек, которые Богом сохранены были вне города. И помчались вслед за царём [вражеским], и едва смогли догнать его в Суздальской земле. И внезапно напали на отдыхавшее войско вражеское...»</p> <p>Определите, к какому из данных событий (процессов) относится приведённый отрывок.</p> <p><input type="radio"/> Столетняя война</p> <p><input type="radio"/> образование Древнерусского государства</p> <p><input checked="" type="radio"/> монгольское нашествие на Русь в XIII в.</p> <p><input type="radio"/> борьба Руси против монгольского владычества в XIV в.</p>	1	<p>Ответ совпадает с эталоном</p>	1
			<p>Другие варианты</p>	0
5	<p>«И один из вельмож рязанских по имени Евпатий Коловрат был в то время в Чернигове вместе с князем Ингварем Ингоревиичем... И уехал из Чернигова с малою дружиною, и мчался быстро. И приехал в землю Рязанскую, и увидел её опустошённой: грады разорены, церкви сожжены, люди убиты... Евпатий закричал в горести души своей и разгораясь сердцем. И собрал небольшую дружину – тысячу семьсот человек, которые Богом сохранены были вне города. И помчались вслед за царём [вражеским], и едва смогли догнать его в Суздальской земле. И внезапно напали на отдыхавшее войско вражеское...»</p> <p>А. Где, согласно данному отрывку, находился Евпатий Коловрат во время разорения врагами Рязанской земли? Выделите в тексте правильный ответ.</p> <p><i>Чтобы выбрать нужное предложение, щёлкните левой кнопкой мыши в любом его месте. После чего предложение выделится фоном. Чтобы отменить выбор, щёлкните повторно левой кнопкой мыши в любом месте этого предложения.</i></p> <p>Б. Какова, согласно данному отрывку, численность дружины, которую сумел собрать Евпатий Коловрат?</p> <p>Ответ: <input type="text" value="тысячу семьсот человек"/>.</p>	1	А	
			<p>Ответ совпадает с эталоном</p>	1
			<p>Другие варианты</p>	0
		1	Б	
			<p>Ответ совпадает с эталоном</p>	1
			<p>Другие варианты</p>	0

6	<p> А. С каким из данных событий (процессов) связано слово «варяги»?</p> <p><input type="radio"/> Столетняя война</p> <p><input checked="" type="radio"/> образование государства Русь</p> <p><input type="radio"/> монгольское нашествие на Русь в XIII в.</p> <p><input type="radio"/> борьба Руси против монгольского владычества в XIV в.</p> <p> Б. Какие два из приведенных суждений являются характеристиками слова «варяги»?</p> <p><input type="checkbox"/> военные предводители тысячи воинов в XII-XIV вв.</p> <p><input checked="" type="checkbox"/> наёмные воины русских князей в IX–XI вв.</p> <p><input type="checkbox"/> представители монгольского хана в завоеванных землях</p> <p><input type="checkbox"/> на Руси категория зависимого населения по положению, близкая к рабам</p> <p><input checked="" type="checkbox"/> купцы, торговавшие на пути «из варяг в греки»</p>	1	А	
			Ответ совпадает с эталоном	1
			Другие варианты	0
		2	Б	
			Ответ совпадает с эталоном	2
			Допущена одна ошибка	1
			Другие варианты	0

7	<p>В 1237–1241 гг. войска монгольского хана Батыя совершили два похода на русские земли и княжества.</p> <p>Выберите два утверждения, которые характеризуют последствия этого нашествия.</p> <div><input type="checkbox"/> Русские князья оказали яростное сопротивление монголам и отстояли независимость своих земель.</div> <div><input checked="" type="checkbox"/> Русские земли должны были выплачивать дань (ордынский выход).</div> <div><input type="checkbox"/> Русские князья заключили военный союз с княжеством Литовским для совместной борьбы с Батыем.</div> <div><input type="checkbox"/> Русские князья начали строить оборонительные сооружения (засечные черты) для защиты своих земель.</div> <div><input checked="" type="checkbox"/> Хан своими ярлыками (грамотами) стал утверждать власть великих и удельных князей.</div>	2	Ответ совпадает с эталоном	2						
			Допущена одна ошибка	1						
			Другие варианты	0						
8	<p>На каких двух изображениях представлены памятники культуры России, а на каких двух – памятники культуры зарубежных стран?</p> <p>Перетащите изображения в соответствующие столбцы таблицы.</p> <table><tr><th>Памятники культуры России</th><th>Памятники культуры зарубежных стран</th></tr><tr><td></td><td></td></tr><tr><td></td><td></td></tr></table>	Памятники культуры России	Памятники культуры зарубежных стран					1	Ответ совпадает с эталоном	1
Памятники культуры России	Памятники культуры зарубежных стран									
										
										
			Другие варианты	0						

9

Рассмотрите изображение.



А. Запишите название государственного праздника, на котором была сделана данная фотография.

Ответ:

Б. Выберите **два** верных суждения о представленной фотографии.

☐ Изображённое на фотографии событие проходит на Манежной площади в Москве.

☒ Государственный праздник, на котором сделана фотография, посвящён Победе СССР над фашистской Германией.

☒ Знаменосцы, возглавляющие парад, проносят Знамя Победы над фашистской Германией.

☐ Знаменосцы несут штандарты с названиями современных воинских частей.

☐ Военный парад проходит ежегодно 22 июня.

1

А

Ответ совпадает с
эталоном

1

Другие варианты

0

2

Б

Ответ совпадает с
эталоном

2

Допущена одна
ошибка

1

Другие варианты

0